

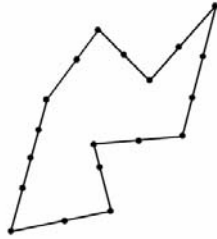
# Interpretationshilfe **Vorstellungsvermögen**

Vorstellungsvermögen 2d

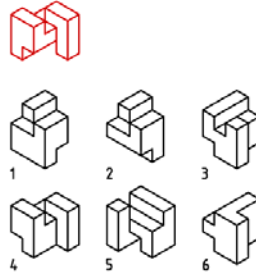
Vorstellungsvermögen 3d

Prozedurales  
Vorstellungsvermögen

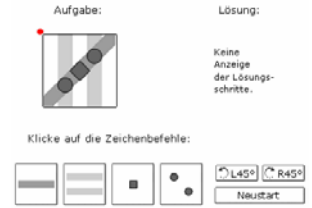
600 – 800



Verbinde zwei schwarze Punkte durch eine Linie so, dass sich aus den Teilfiguren ein Quadrat zusammensetzen lässt.

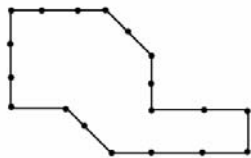


Welche drei der Körper 1 - 6 sind gleich wie der rote Körper?

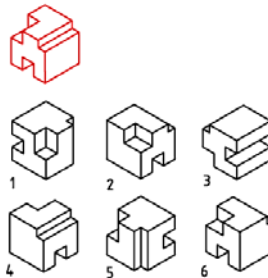


Kopiere die Aufgabe mithilfe der Zeichenbefehle und der Drehköpfe. Der rote Punkt muss am Schluss wieder oben links sein. Es stehen dir zwei Versuche zur Verfügung.

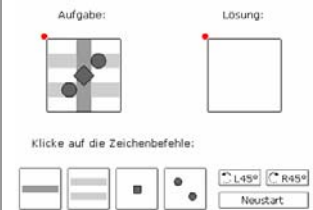
400 – 600



Verbinde zwei schwarze Punkte durch eine Linie so, dass sich aus den Teilfiguren ein Quadrat zusammensetzen lässt.

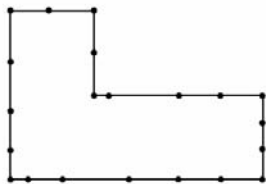


Welche drei der Körper 1 - 6 sind gleich wie der rote Körper?

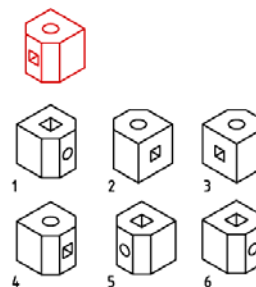


Kopiere die Aufgabe mithilfe der Zeichenbefehle und der Drehköpfe. Die Aufgabe ist gelöst, wenn "Aufgabe" und "Lösung" gleich aussehen. Der rote Punkt muss am Schluss wieder oben links sein. Es stehen dir zwei Versuche zur Verfügung.

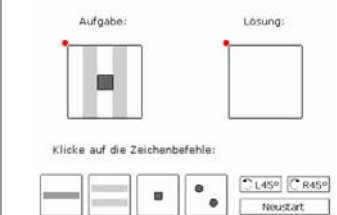
200 - 400



Verbinde zwei schwarze Punkte durch eine Linie so, dass sich aus den Teilfiguren ein Quadrat zusammensetzen lässt.



Welche drei der Körper 1 - 6 sind gleich wie der rote Körper?



Kopiere die Aufgabe mithilfe der Zeichenbefehle und der Drehköpfe. Die Aufgabe ist gelöst, wenn "Aufgabe" und "Lösung" gleich aussehen. Der rote Punkt muss am Schluss wieder oben links sein. Es stehen dir zwei Versuche zur Verfügung.

**Stellwerk**

